

达标测试卷

题号	一	二	三	四	五	六	七	八	九	总分
得分										

一、看图填空。(每空 2 分,共 12 分)



(60)元



(21)元



(15)元(6)角



(1)元(3)角

二、下面哪两样物品的价钱合起来是 20 元? 连一连。(8 分)



18元



6元



13元



8元



7元



12元



2元



14元

三、填一填。(每空 1 分,共 16 分)

2 元 = (20)角

12 角 = (1)元(2)角

10 分 = (1)角

8 角 = (80)分

6 元 8 角 = (68)角

33 分 = (3)角(3)分

4 元 5 角 = (4)元 + (5)角 = (45)角

8 角+5 角=(13)角=(1)元(3)角

8 角+1 元 5 角=(2)元(3)角

四、在 ○ 里填上“>”“<”或“=”。(12 分)

9 角 (>) 15 分

50 角 (>) 50 分



10 元 (<) 8 元+3 元



28 角 (=) 2 元 8 角



25 分 (<) 3 角




9 元+12 角 (>) 10 元




五、换一换。(每空 1 分,共 9 分)




1. 1 张  可以换(4)张  。

2. 1 张  可以换(10)张  。

3. 1 张  可以换(10)张  。

4. 1 张  可以换(5)张  ,也可以换(2)张  。


5. 1 张  可以换(10)张  或(5)张  。


6. 1 张  可以换(2)张  和(1)张  。

(或 1 3)


六、将合适的单位填在括号里。(每空 1 分,共 7 分)

元 角 分

1. 一盏  的价钱是 32(元)。



2. 一辆玩具  的价钱是 25(元)8(角)。

3. 一个  的价钱是 12(元)5(角)。



4. 一个  的价钱是 5(角)5(分)。

七、算一算。(每空 1 分,共 7 分)

 3 元 5 角
  9 元
  70 元
  5 角
  10 元 5 角

1. 买 1 个  和 1 盒  共需要(19)元(5)角。

2. 买 1 桶  和 1 件  共需要(73)元(5)角。

3. 用 11 元买 1 盒  后,剩下的钱可以买(1)盒 。

4. 20 元最多可以买(2)个  ,剩下的钱可以买(4)盒 。

八、去购物。(8 分)

要买东西	付的钱数	应找的钱数
 9 元 8 角		2 角
 29 元		1 元
 4 元 5 角		5 角
 <u>40 元</u>		10 元

九、生活中的数学。(共 21 分)

1.



每辆9元9角



每盒?元



每个8元

(1) 买一辆玩具车和一个布娃娃共需多少钱? (4 分)

【答案】 $9\text{元}9\text{角}+8\text{元}=17\text{元}9\text{角}$

口答:买一辆玩具车和一个布娃娃共需 17 元 9 角。

(2) 明明拿 10 元钱买了一盒巧克力,找回 4 元 5 角,这盒巧克力多少钱? (5 分)

【答案】 $10\text{元}-4\text{元}5\text{角}=5\text{元}5\text{角}$

口答:这盒巧克力 5 元 5 角。

2. 你花 14 元钱,正好可买哪几种物品?(请把序号写在横线上)(5 分)

①



3元

②



1元

③



7元

④



8元

⑤



2元

⑥



9元

①②④⑤ (答案不唯一)

3. (趣味题) 小红和小欣都想买书店里的一本连环画,小红带的钱差 2 元 3 角,小欣带的钱差 1 元 6 角,但两人带的钱凑起来正好可以买下这本连环画。买这本连环画需要多少钱? 她们各带了多少钱? (7 分)

【答案】 $2\text{元}3\text{角}+1\text{元}6\text{角}=3\text{元}9\text{角}$

$3\text{元}9\text{角}-2\text{元}3\text{角}=1\text{元}6\text{角}$

$3\text{元}9\text{角}-1\text{元}6\text{角}=2\text{元}3\text{角}$

口答:买这本连环画需要 3 元 9 角。小红带了 1 元 6 角,小欣带了 2 元 3 角。